

Муниципальное общеобразовательное учреждение
«Рудногорская средняя общеобразовательная школа»

**Спецификация и
контрольно-измерительные материалы
итоговой промежуточной аттестации
по физике
по основной образовательной программе
среднего общего образования
в форме теста
для обучающихся 10-х классов**

подготовлена учителем физики Косточкиной Алиной ???

1. Назначение – оценить уровень общеобразовательной подготовки по физике учащихся 10-го класса МОУ «Рудногорская СОШ» в целях итоговой промежуточной аттестации. Её удовлетворительные результаты являются обязательными для учащихся при переводе в следующий класс.

Итоговая промежуточная аттестация в школе проводится на основании «Положения о формах, периодичности и порядке текущего контроля успеваемости и промежуточной аттестации обучающихся по основным общеобразовательным программам в МОУ «Рудногорская СОШ», рассмотренного на педагогическом совете № 10 от 13.06.2020 г., утвержденного Приказом № 159 от 13.06.2020 г.

2. Документы, определяющие содержание аттестационной работы

Содержание аттестационной работы определяет Федеральный государственный образовательный стандарт среднего общего образования (приказ Министерства просвещения России от 12.08.2022 № 732).

3. Подходы к отбору содержания материала аттестационной работы

Аттестационная работа включает в себя выполнение теста, материал которого однозначно трактуемый в учебнике и входящий в Федеральный государственный образовательный стандарт среднего общего образования. Содержание заданий разработано в соответствии с материалом учебника под редакцией Г.Я. Мукишева, Б.Б. Буховцева.

4. Характеристика структуры и содержания аттестационной работы

Каждый вариант аттестационной работы состоит из двух частей и включает 10 заданий, различающихся формой и уровнем сложности (см. таблицу 1).

Часть 1 содержит 7 заданий с выбором ответа. К каждому заданию приводится 4 варианта ответа, из которых верен только один.

Часть 2 включает 3 задания, к которым требуется привести краткий ответ в виде набора цифр или числа. Задания В1 и В2 представляют собой задания на установление соответствия позиций, представленных в двух множествах. Задание В3 содержит расчетную задачу.

Таблица 1. Распределение заданий экзаменационной работы по частям работы

№	Части работы	Число заданий	Тип заданий
1	Часть 1	7	Задания с выбором ответа
2	Часть 2	3	Задания с кратким ответом
Итого: 2		10	

Задание с выбором ответа считается выполненным, если выбранный экзаменуемым номер ответа совпадает с верным ответом. Все задания первой части работы оцениваются в 1 балл.

Задания В1, В2 оцениваются в 2 балла, если верно указаны все элементы ответа, в 1 балл, если допущена ошибка в указании одного из элементов ответа, и в 0 баллов, если допущено более одной ошибки. Задание В3 с кратким ответом считается выполненным, если записанный ответ совпадает с верным ответом, оценивается в 1 балл.

В каждом варианте работы перед каждым типом задания предлагается инструкция, в которой приведены общие требования к оформлению ответов.

На основе баллов, выставленных за выполнение всех заданий работы, подсчитывается тестовый балл, который переводится в отметку по пятибалльной шкале в соответствии с рекомендуемой шкалой оценивания, приведенной в инструкции по проверке работы.

Уровни сложности заданий: Б - базовый, П - повышенный.

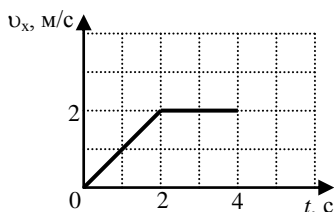
Обозначение задания в работе	Проверяемые элементы содержания	Коды элементов содержания по кодификатору элементов со-	Проверяемые умения	Уровень сложности задания	Макс. балл за выполнение задания	Примерное время выполнения задания (мин.)
<i>Часть 1</i>						
A1	Кинематика	1.1.1- 1.1.5	1.1-1.3	Б	1	3
A2	Динамика	1.2.1 -1.2.5	2.1	П	1	4-6
A3	Термодинамика	2.2.1- 2.2.3	5.1	Б	1	3
A4	МКТ	2.1.1	4.1	Б	1	3
A5	Электростатика	3.1.1	6.1	Б	1	3
A6	Постоянный ток	3.2.1-3.2.3	7.1	Б	1	3
A7	Физика и методы научного познания. Механика	1.1-3.2	8.1	Б	1	3
<i>Часть 2</i>						
B1	Механика	1.2, 1.3	2.2,2.3, 3.1, 8.2, 8.4	Б	2	4
B2	Механика	1.1.6	1.4-1.7,	Б	2	4
B3	Электродинамика (Расчетная задача)	3	8.3	П	1	4-6
Всего заданий - 10, из них по типу заданий: с выбором ответа - 7, с кратким ответом - 3; по уровню сложности: Б - 8, П - 2. Максимальный балл за работу - 12. Общее время выполнения работы - 45 мин.						

Контрольно-измерительный материал для промежуточной аттестации по физике за курс 10 класса

**ВАРИАНТ 1
Часть 1**

К каждому из заданий А1-А7 даны 4 варианта ответа, из которых только один правильный. Номер этого ответа обведите кружком.

A1.



Тело движется по оси Ox . На графике показана зависимость проекции скорости тела на ось Ox от времени. Каков путь, пройденный телом к моменту времени $t = 4$ с?

- 1) 6 м 2) 8 м 3) 4 м 4) 5 м

A2. На горизонтальном полу стоит ящик массой 10 кг. Коэффициент трения между полом и ящиком равен 0,25. К ящику в горизонтальном направлении прикладывают силу 16 Н. Какова сила трения между ящиком и полом?

- 1) 0 Н 2) 2,5 Н 3) 4 Н 4) 16 Н

A3. Внешние силы совершили над газом работу 300 Дж, при этом внутренняя энергия газа увеличилась на 500 Дж. В этом процессе газ

- 1) отдал количество теплоты 100 Дж 2) получил количество теплоты 200 Дж
 3) отдал количество теплоты 400 Дж 4) получил количество теплоты 400 Дж

A4. Объём 3 моль водорода в сосуде при температуре 300 К и давлении p_1 равен V_1 . Чему равен объём 3 моль кислорода в сосуде при той же температуре и том же давлении?

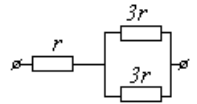
- 1) V_1 2) $8V_1$ 3) $24V_1$ 4) $V_1/8$

A5. Расстояние между двумя точечными электрическими зарядами увеличили в 2 раза, а один из зарядов уменьшили в 4 раза. Сила электрического взаимодействия между ними

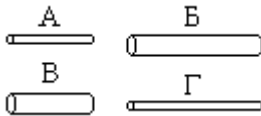
- 1) не изменилась 2) уменьшилась в 4 раза 3) увеличилась в 4 раза 4) уменьшилась в 16 раз

A6. На рисунке показан участок цепи постоянного тока. Каково сопротивление этого участка, если $r = 1$ Ом?

- 1) 7 Ом 2) 2,5 Ом 3) 2 Ом 4) 3 Ом



A7. Чтобы экспериментально проверить, что жесткость упругого стержня зависит от его длины, надо использовать пару стальных стержней



- 1) А и Б 2) Б и В 3) В и Г 4) Б и Г

Часть 2

В заданиях В1-В2 требуется указать последовательность цифр, соответствующих правильному ответу. Эту последовательность следует записать в текст проверочной работы. (Цифры в ответе могут повторяться).

В1. Брусок движется равномерно по горизонтальной поверхности. Установите для силы трения соответствие между параметрами силы, перечисленными в первом столбце таблицы и свойствами вектора силы:

- 1) вертикально вниз
- 2) против направления вектора скорости
- 3) вертикально вверх
- 4) обратно пропорционален площади поверхности бруска
- 5) пропорционален силе нормального давления
- 6) обратно пропорционален силе нормального давления
- 7) пропорционален площади поверхности бруска
- 8) не зависит от площади поверхности бруска

Запишите в таблицу выбранные цифры для каждой физической величины. Цифры в ответе могут повторяться.

Направление вектора	
Модуль вектора	

В2. Камень брошен вертикально вверх. Изменяются ли перечисленные в первом столбце физические величины во время его движения вверх и если изменяются, то как?

Установите соответствие между физическими величинами, перечисленными в первом столбце, и возможными видами их изменений, перечисленными во втором столбце. Влиянием сопротивления воздуха пренебречь.

ФИЗИЧЕСКИЕ ВЕЛИЧИНЫ

- А) скорость
- Б) ускорение
- В) кинетическая энергия
- Г) потенциальная энергия

ИХ ИЗМЕНЕНИЯ

- 1) не изменяется
- 2) увеличивается
- 3) уменьшается

А	Б	В	Г

Ответом к заданию В3 будет некоторое число. Это число надо записать в месте для ответа. Единицы физических величин писать не нужно. Ниже оформите решение задачи.

В3. Вычислите силу тока в цепи при подключении к источнику постоянного тока с ЭДС 6 В и внутренним сопротивлением 1 Ом резистора с электрическим сопротивлением 2 Ом. Ответ запишите числом, выраженным в амперах.

Ответ _____ А

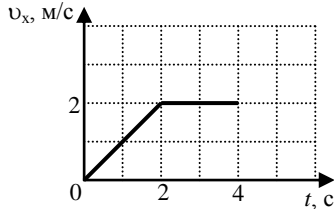
Контрольно-измерительный материал для промежуточной аттестации по физике за курс 10 класса

ВАРИАНТ 2

Часть 1

К каждому из заданий А1-А7 даны 4 варианта ответа, из которых только один правильный. Номер этого ответа обведите кружком.

А1.



Тело движется по оси Ox . На графике показана зависимость проекции скорости тела на ось Ox от времени. Каков путь, пройденный телом к моменту времени $t = 3$ с?

- 1) 8 м 2) 6 м 3) 5 м 4) 4 м

А2. Подъемный кран поднимает груз с постоянным ускорением. На груз со стороны каната действует сила, равная по величине 8000 Н. На канат со стороны груза действует сила, которая

- 1) равна 8000 Н 2) меньше 8000 Н 3) больше 8000 Н 4) равна силе тяжести, действующей на груз

А3. Газ совершил работу 300 Дж, при этом внутренняя энергия газа увеличилась на 400 Дж. В этом процессе газ

- 1) отдал количество теплоты 700 Дж 2) получил количество теплоты 700 Дж
3) отдал количество теплоты 100 Дж 4) получил количество теплоты 100 Дж

А4. Объем 6 моль азота в сосуде при температуре 500 К и давлении p равен V . Чему равен объем 6 моль кислорода в сосуде при той же температуре и том же давлении?

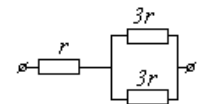
- 1) $V/8$ 2) $24V$ 3) $8V$ 4) V

А5. Расстояние между двумя точечными электрическими зарядами увеличили в 4 раза, а один из зарядов увеличили в 8 раз. Сила электрического взаимодействия между ними

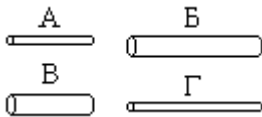
- 1) не изменилась 2) уменьшилась в 2 раза 3) увеличилась в 2 раза 4) увеличилась в 32 раза

А6. На рисунке показан участок цепи постоянного тока. Каково сопротивление этого участка, если $r = 2$ Ом?

- 1) 3 Ом 2) 12 Ом 3) 14 Ом 4) 5 Ом



А7. Чтобы экспериментально проверить, что жесткость упругого стержня зависит от его длины, надо использовать пару стальных стержней

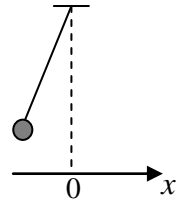


- 1) А и Б 2) Б и В 3) В и Г 4) Б и Г

Часть 2

В заданиях В1-В2 требуется указать последовательность цифр, соответствующих правильному ответу. Эту последовательность следует записать в текст проверочной работы. (Цифры в ответе могут повторяться).

В1. Груз, привязанный к нити, отклонили от положения равновесия и в момент $t = 0$ отпустили из состояния покоя (см. рисунок). На графиках А и Б показано изменение физических величин, характеризующих движение груза после этого. Установите соответствие между графиками и физическими величинами, зависимости которых от времени эти графики могут представлять. К каждой позиции первого столбца подберите соответствующую позицию из второго столбца.



А	Б

ГРАФИКИ	ФИЗИЧЕСКИЕ ВЕЛИЧИНЫ
<p>А)</p>	<p>1) координата x</p> <p>2) проекция скорости v_x</p> <p>3) кинетическая энергия E_k</p> <p>4) потенциальная энергия E_p</p>
<p>Б)</p>	

В2. Камень брошен вертикально вверх. Изменяются ли перечисленные в первом столбце физические величины во время его движения вверх и если изменяются, то как?

Установите соответствие между физическими величинами, перечисленными в первом столбце, и возможными видами их изменений, перечисленными во втором столбце. Влиянием сопротивления воздуха пренебречь.

ФИЗИЧЕСКИЕ ВЕЛИЧИНЫ

- А) скорость
- Б) ускорение
- В) кинетическая энергия
- Г) потенциальная энергия

ИХ ИЗМЕНЕНИЯ

- 1) уменьшается
- 2) увеличивается
- 3) не изменяется

А	Б	В	Г

Ответом к заданию В3 будет некоторое число. Это число надо записать в месте для ответа. Единицы физических величин писать не нужно. Ниже оформите решение задачи.

В3. Вычислите силу тока в цепи при подключении к источнику постоянного тока с ЭДС 12 В и внутренним сопротивлением 1 Ом резистора с электрическим сопротивлением 3 Ом. Ответ запишите числом, выраженным в амперах.

Ответ _____ А